

به نام خدا

جلسه ۴ ریاضی عمومی ۱

مدرس: جابر عامری

## آموزشکده های فنی خوزستان

موضوع: حد و پیوستگی

\*\*\*

### محاسبه حد

گاهی لازم است حد تابع را در یک نقطه به طور مستقیم، محاسبه کنیم. روش رایج جایگزینی مستقیم در معادله‌ی تابع است. به نمونه های زیر توجه کنید،  
مثال: حد توابع زیر را بدست آورید.

$$۱) \lim_{x \rightarrow \frac{\pi}{2}} (\sin^2 x + \cos x + ۱)$$

حل:

$$\lim_{x \rightarrow \frac{\pi}{2}} (\sin^2 x + \cos x + ۱) = \sin^2\left(\frac{\pi}{2}\right) + \cos\left(\frac{\pi}{2}\right) + ۱ = ۱ + ۰ + ۱ = ۲$$

$$۲) \lim_{x \rightarrow ۱} \frac{۳x^۲ + ۵x}{x - ۴}$$

(( صفحه ۱ ))

حل :

$$\lim_{x \rightarrow 1} \frac{3x^2 + 5x}{x - 4} = \frac{3(1)^2 + 5(1)}{(1) - 4} = \frac{3 + 5}{-3} = -\frac{8}{3}$$

$$3) \lim_{x \rightarrow 4} e^{2x-8}$$

حل :

$$\lim_{x \rightarrow 4} e^{2x-8} = e^{2(4)-8} = e^0 = 1$$

$$4) \lim_{x \rightarrow 1} \sqrt[3]{x^2 + 5x + 2}$$

حل :

$$\lim_{x \rightarrow 1} \sqrt[3]{x^2 + 5x + 2} = \lim_{x \rightarrow 1} \sqrt[3]{(1)^2 + 5(1) + 2} = \sqrt[3]{8} = 2$$

توجه : حد تابع ثابت مانند  $f(x) = k$  در هر نقطه برای  $k$  است.

**تمرین ۱ :** ثابت کنید که اگر  $\lim_{x \rightarrow a} f(x) = L$  آنگاه  $\lim_{x \rightarrow a} (f(x) - L) = 0$

اثبات :

$$\lim_{x \rightarrow a} f(x) = L \rightarrow \lim_{x \rightarrow a} f(x) - \lim_{x \rightarrow a} L = L - \lim_{x \rightarrow a} L$$

$$\xrightarrow{\lim_{x \rightarrow a} L = L} \lim_{x \rightarrow a} (f(x) - L) = L - L \rightarrow \lim_{x \rightarrow a} (f(x) - L) = 0$$

**تمرین ۲ :** ثابت کنید که اگر  $\lim_{x \rightarrow a} (f(x) - L) = 0$  آنگاه  $\lim_{x \rightarrow a} f(x) = L$

اثبات :

$$\lim_{x \rightarrow a} (f(x) - L) = 0 \rightarrow \lim_{x \rightarrow a} f(x) - \lim_{x \rightarrow a} L = 0$$

(( صفحه ۲ ))

$$\rightarrow \lim_{x \rightarrow a} f(x) - L = 0 \rightarrow \lim_{x \rightarrow a} f(x) = L$$

**تمرین ۳:** دو تابع مثال بزنید که هیچ کدام در نقطه‌ی  $x = 1$  حد نداشته باشند، ولی مجموع آن‌ها در این

نقطه دارای حد باشد.

**حل:** قرار می‌دهیم.

$$f(x) = \begin{cases} -x + 1 & x > 1 \\ 2 & x \leq 1 \end{cases} \quad \text{و} \quad g(x) = \begin{cases} x - 1 & x > 1 \\ -2 & x \leq 1 \end{cases}$$

$$\rightarrow (f + g)(x) = \begin{cases} 0 & x > 1 \\ 0 & x \leq 1 \end{cases} \rightarrow (f + g)(x) = 0$$

در این صورت  $\lim_{x \rightarrow 1} (f + g)(x) = 0$  در حالی که دو تابع  $f$  و  $g$  در نقطه‌ی  $x = 1$  دارای حد نیستند.

**تمرین ۴:** حد تابع  $f(x) = \frac{x^2 - 8x}{\sqrt[3]{x} - 2}$  را در نقطه‌ی  $x = 8$  در صورت وجود به دست آورید.

**حل:** در این مثال نیز صورت و مخرج به ازای  $x = 8$  برابر صفرند. باید عامل  $x - 8$  را در صورت و مخرج ظاهر

کنیم. برای این کار مخرج کسر را با ضرب صورت و مخرج در  $\sqrt[3]{x^2} + 2\sqrt[3]{x} + 4$  گویا می‌کنیم.

$$\begin{aligned} \lim_{x \rightarrow 8} f(x) &= \lim_{x \rightarrow 8} \frac{x^2 - 8x}{\sqrt[3]{x} - 2} = \lim_{x \rightarrow 8} \frac{x^2 - 8x}{\sqrt[3]{x} - 2} \times \frac{\sqrt[3]{x^2} + 2\sqrt[3]{x} + 4}{\sqrt[3]{x^2} + 2\sqrt[3]{x} + 4} \\ &= \lim_{x \rightarrow 8} \frac{x^2 - 8x}{\sqrt[3]{x} - 2} \times \frac{\sqrt[3]{x^2} + 2\sqrt[3]{x} + 4}{\sqrt[3]{x^2} + 2\sqrt[3]{x} + 4} = \lim_{x \rightarrow 8} \frac{x^2 - 8x}{(\sqrt[3]{x})^3 - (2)^3} \times \frac{\sqrt[3]{x^2} + 2\sqrt[3]{x} + 4}{1} \\ &= \lim_{x \rightarrow 8} \frac{x(x - 8)}{x - 8} \times (\sqrt[3]{x^2} + 2\sqrt[3]{x} + 4) = \lim_{x \rightarrow 8} x(\sqrt[3]{x^2} + 2\sqrt[3]{x} + 4) \\ &= 8(4 + 4 + 4) = 96 \end{aligned}$$

(( صفحه‌ی ۳ ))

**تمرین ۵:** تابع  $f(x) = x^2 + 5x - 1$  را در نظر بگیرید و سپس حاصل  $\lim_{x \rightarrow 2} \frac{f(x) - f(2)}{x - 2}$  را

به دست آورید.

حل:

$$f(2) = (2)^2 + 5(2) - 1 = 13$$

$$\begin{aligned} \lim_{x \rightarrow 2} \frac{f(x) - f(2)}{x - 2} &= \lim_{x \rightarrow 2} \frac{(x^2 + 5x - 1) - (13)}{x - 2} \\ &= \lim_{x \rightarrow 2} \frac{x^2 + 5x - 14}{x - 2} = \lim_{x \rightarrow 2} \frac{(x - 2)(x + 7)}{x - 2} = \lim_{x \rightarrow 2} (x + 7) = 2 + 7 = 9 \end{aligned}$$

\*\*\*

### راهبرد تغییر متغیر

گاهی لازم می شود برای محاسبه ی حد تابع در یک نقطه ، متغیر را تغییر دهیم و متغیر جدیدی را تعریف کنیم. توجه داشته باشید که متغیر جدید ممکن است به عددی دیگری میل کند و باید در محاسبه اعمال شود.

**تمرین ۶:** مقدار حد روبرو را بیابید.

$$\lim_{x \rightarrow 1} \frac{2x - 3\sqrt{x} + 1}{x - 1}$$

$$\lim_{x \rightarrow 1} \frac{2x - 3\sqrt{x} + 1}{x - 1} = \frac{0}{0} \xrightarrow{\sqrt{x}=t} \lim_{x \rightarrow 1} \frac{2x - 3\sqrt{x} + 1}{x - 1} = \lim_{t \rightarrow 1} \frac{2t^2 - 3t + 1}{t^2 - 1}$$

$$= \lim_{t \rightarrow 1} \frac{(t - 1)(2t - 1)}{(t - 1)(t + 1)} = \lim_{t \rightarrow 1} \frac{2t - 1}{t + 1} = \frac{1}{2}$$

**تمرین ۷** حد زیر را حساب کنید.

$$\lim_{x \rightarrow -2} \frac{\sin(x + 2)}{3x + 6}$$

حل: کافی است قرار دهیم  $x + 2 = t$

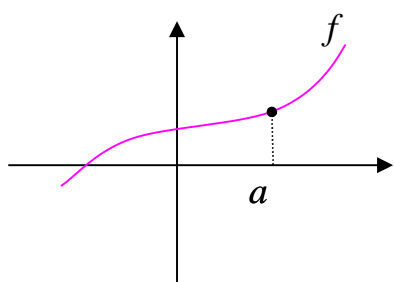
$$\lim_{x \rightarrow -2} \frac{\sin(x + 2)}{3(x + 2)} = \lim_{t \rightarrow 0} \frac{\sin t}{3t} = \frac{1}{3}$$

\*\*\*

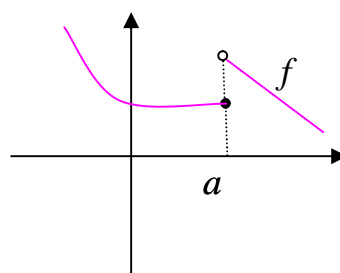
(( صفحه ی ۴ ))

## پیوستگی تابع در یک نقطه

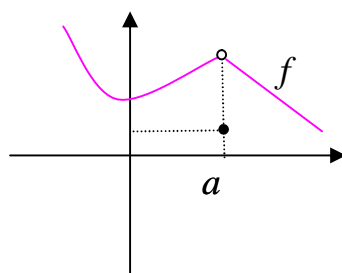
بررسی پیوستگی یک تابع در یک نقطه می تواند در شناخت رفتار یک تابع کمک نماید. از نظر هندسی تابعی را در یک نقطه، پیوسته گویند، هرگاه نمودار آن تابع در این نقطه بریدگی یا پرش نداشته باشد. به نمودار های زیر توجه کنید.



تابع در نقطه‌ی  $x = a$  پیوسته است.



تابع در نقطه‌ی  $x = a$  پیوسته نیست.



تابع در نقطه‌ی  $x = a$  پیوسته نیست.

\*\*\*

## تعریف ریاضی پیوستگی تابع در یک نقطه

تابع  $y = f(x)$  را در نقطه‌ی  $x = a$  پیوسته گویند، هرگاه سه شرط زیر برقرار باشد.

**الف)** تابع در نقطه‌ی  $x = a$  تعریف شده باشد. یعنی  $f(a)$  وجود داشته باشد.

**ب)** تابع در نقطه‌ی  $x = a$  حد داشته باشد. یعنی  $\lim_{x \rightarrow a^+} f(x) = \lim_{x \rightarrow a^-} f(x)$

**ج)** حد تابع در این نقطه با مقدار آن برابر باشد.  $\lim_{x \rightarrow a} f(x) = f(a)$

به عبارتی دیگر تابع  $y = f(x)$  در نقطه‌ی  $x = a$  پیوسته است، هرگاه

$$\lim_{x \rightarrow a^+} f(x) = \lim_{x \rightarrow a^-} f(x) = f(a)$$

اگر یکی از شرط های فوق برقرار نباشد، گویند تابع در  $x = a$  پیوسته نیست.

**مثال:** پیوستگی تابع زیر را در نقطه‌ی  $x = 1$  بررسی کنید.

$$f(x) = \begin{cases} x^2 + 3 & x > 1 \\ 5 & x = 1 \\ 2x - 5 & x < 1 \end{cases}$$

**حل:** کافی است، شرایط پیوستگی را بررسی کنیم.

$$\text{حد راست } \lim_{x \rightarrow 1^+} f(x) = \lim_{x \rightarrow 1^+} x^2 + 3 = (1)^2 + 3 = 4$$

$$\text{حد چپ } \lim_{x \rightarrow 1^-} f(x) = \lim_{x \rightarrow 1^-} (2x - 5) = 2(1) - 5 = -3$$

$$\text{مقدار } f(1) = 5$$

لذا تابع در نقطه‌ی  $x = 1$  پیوسته نیست.

**تمرین ۸:** پیوستگی تابع زیر را در نقطه‌ی  $x = 2$  بررسی کنید.

$$f(x) = \begin{cases} x^2 + 1 & x \leq 2 \\ 3x - 1 & x > 2 \end{cases}$$

**حل:** کافی است، شرایط پیوستگی را بررسی کنیم.

$$\text{حد راست } \lim_{x \rightarrow 2^+} f(x) = \lim_{x \rightarrow 2^+} (3x - 1) = 3(2) - 1 = 5$$

$$\text{حد چپ } \lim_{x \rightarrow 2^-} f(x) = \lim_{x \rightarrow 2^-} (x^2 + 1) = (2)^2 + 1 = 5$$

$$\text{مقدار } f(2) = (2)^2 + 1 = 5$$

لذا تابع در نقطه‌ی  $x = 2$  پیوسته است.

**(( صفحه‌ی ۶ ))**

**تمرین ۹:** تابع زیر در نقطه‌ی  $x = 1$  پیوسته است. مقدار  $a$  را بیابید.

$$f(x) = \begin{cases} 2ax^2 + 5 & x \geq 1 \\ 6x - 3 & x < 1 \end{cases}$$

**حل:**

$$\text{حد راست } \lim_{x \rightarrow 1^+} f(x) = \lim_{x \rightarrow 1^+} (2ax^2 + 5x) = 2a(1)^2 + 5(1) = 2a + 5$$

$$\text{حد چپ } \lim_{x \rightarrow 1^-} f(x) = \lim_{x \rightarrow 1^-} (6x - 3) = 6(1) - 3 = 3$$

$$\text{مقدار } f(1) = 2a(1)^2 + 5(1) = 2a + 5$$

و چون تابع در نقطه‌ی  $x = 1$  پیوسته است، پس:

$$2a + 5 = 3 \rightarrow 2a = 3 - 5 \rightarrow 2a = -2 \rightarrow a = -1$$

**نتیجه:**

**۱:** هر تابع چند جمله‌ای به ازاء جميع مقادیر حقیقی پیوسته است.

**۲:** هر تابع کسری به ازاء جميع مقادیر حقیقی به جز ریشه‌های مخرج آن پیوسته است.

**۳:** هر تابع رادیکالی با فرجه‌ی زوج (تابع اصم) به ازاء همه‌ی مقادیر حقیقی که زیر رادیکال را نامنفی کنند،

پیوسته است.

**توجه:** یک تابع کسری وقتی همواره پیوسته است که مخرج آن ریشه نداشته باشد.

**تمرین ۱۰:** نقاط ناپیوستگی تابع را تعیین کنید.

$$f(x) = \frac{5}{x - 4x^3}$$

**حل:** کافی است ریشه‌های مخرج را تعیین کنیم.

$$x - 4x^3 = 0 \rightarrow x(1 - 4x^2) = 0$$

$$\rightarrow \begin{cases} x = 0 \\ 1 - 4x^2 = 0 \rightarrow x = \pm \frac{1}{2} \end{cases}$$

**(( صفحه‌ی ۷ ))**

**تمرین ۱۱:** به ازاء چه مقادیری از  $m$  تابع  $f$  به معادله‌ی  $f(x) = \frac{x^2 + 1}{x^2 + mx + 1}$  همواره پیوسته است.

**حل:** این تابع وقتی همواره پیوسته است که مخرج آن ریشه نداشته باشد. بر این اساس می توان نوشت:

$$x^2 + mx + 1 = 0$$

$$\Delta < 0 \xrightarrow{\Delta = b^2 - 4ac} b^2 - 4ac < 0 \rightarrow m^2 - 4 < 0 \rightarrow m^2 < 4 \rightarrow -2 < m < 2$$

\*\*\*

**پایان**