

به نام خدا

مدرس: جابر عامری

ریاضی عمومی ۲

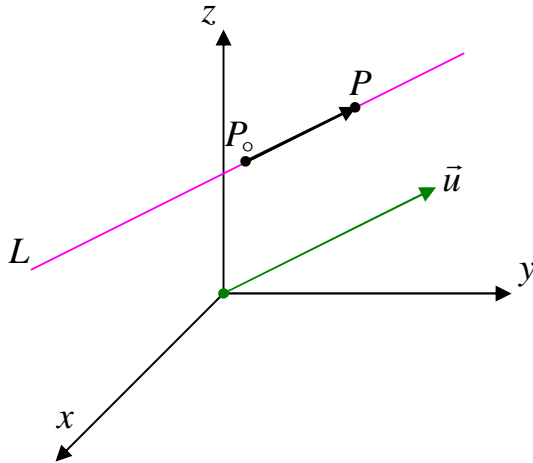
کلیپ ۵

آموزشکده هاس فنی خوزستان

موضوع: معادلات خط و صفحه

معادلات خط و صفحه در فضا

الف) خط در فضا



اگر $P(x_0, y_0, z_0)$ نقطه‌ی معلومی از خط L و بردار ناصفر $\vec{u} = (p, q, r)$ که موازی با L باشد را به طور منحصر بفرد داشته باشیم. در این صورت معادله‌ی خط L را می‌توان به شکل‌های زیر نوشت:

معادلات پارامتری خط

$$\begin{cases} x = x_0 + pt \\ y = y_0 + qt \\ z = z_0 + rt \end{cases}$$

معادلات متعارف خط (معادلات دکارتی)

$$\frac{x - x_0}{p} = \frac{y - y_0}{q} = \frac{z - z_0}{r}$$

توجه: بردار \vec{u} که موازی خط L است را بردار هادی خط L می‌نامند که همواره امتداد خط L را نشان می‌دهد.

((صفحه‌ی ۱))

تمرین ۱: خطی از نقطه‌ی $P_0(2, -4, 1)$ می‌گذرد و موازی با بردار $\vec{u} = (3, 2, -1)$ است.

الف: معادلات پارامتری این خط را بنویسید. ب: معادلات متعارف این خط را بنویسید.

حل:

الف: معادلات پارامتری خط

$$\begin{cases} x = x_0 + pt \\ y = y_0 + qt \\ z = z_0 + rt \end{cases} \rightarrow \begin{cases} x = 2 + 3t \\ y = -4 + 2t \\ z = 1 - t \end{cases}$$

ب: معادلات متعارف خط

$$\frac{x - x_0}{p} = \frac{y - y_0}{q} = \frac{z - z_0}{r} \rightarrow \frac{x - 2}{3} = \frac{y + 4}{2} = \frac{z - 1}{-1}$$

تمرین ۲: معادلات متعارف خطی را بنویسید که از دو نقطه‌ی $P_1(4, -6, 5)$ و $P_2(2, -3, 0)$ می‌گذرد.

حل: کافی است که امتداد خط را به صورت زیر تعریف کنیم:

$$\vec{u} = \overrightarrow{P_1P_2} = (2 - 4, -3 + 6, 0 - 5) = (-2, 3, -5)$$

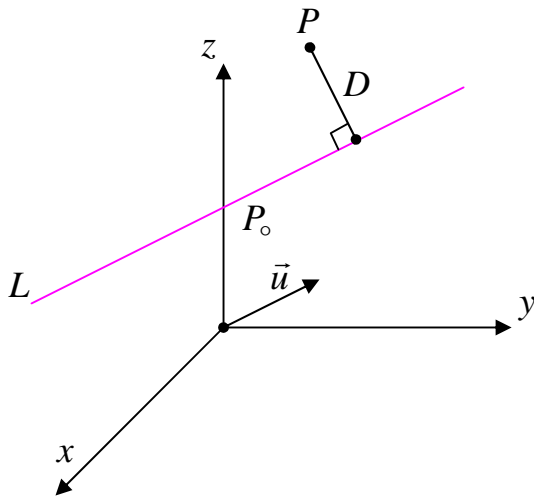
حال یکی از نقاط داده شده، مثلاً $P_2(2, -3, 0)$ قرار دهیم: $(x_0 = 2, y_0 = -3, z_0 = 0)$

و لذا معادله‌ی خط به شکل زیر خواهد شد.

$$\frac{x - x_0}{p} = \frac{y - y_0}{q} = \frac{z - z_0}{r} \rightarrow \frac{x - 2}{-2} = \frac{y + 3}{3} = \frac{z}{-5}$$

((صفحه‌ی ۲))

فاصله‌ی یک نقطه از یک خط



فرض کنیم L خطی باشد که با بردار غیر صفر \vec{u} موازی است و P را نقطه‌ای در نظر بگیریم که خارج (یا روی) L قرار دارد. در این صورت فاصله‌ی نقطه‌ی P از خط L یعنی D برابر است با:

$$D = \frac{\|\vec{u} \times \vec{P_0P}\|}{\|\vec{u}\|}$$

که در آن P_0 نقطه‌ی دلخواهی از صفحه است.

تمرین ۳: فاصله‌ی نقطه‌ی $P(5, -6, 2)$ را از خط L به معادلات پارامتری زیر بدست آورید.

$$\begin{cases} x = 1 \\ y = -1 + 4t \\ z = 2 - 3t \end{cases}$$

حل: نقطه‌ی $P_0(1, -1, 2)$ را روی خط L در نظر می‌گیریم. بردار $\vec{u} = (0, 4, -3)$ موازی L است. پس:

$$\vec{P_0P} = (5 - 1, -6 + 1, 2 - 2) = (4, -5, 0)$$

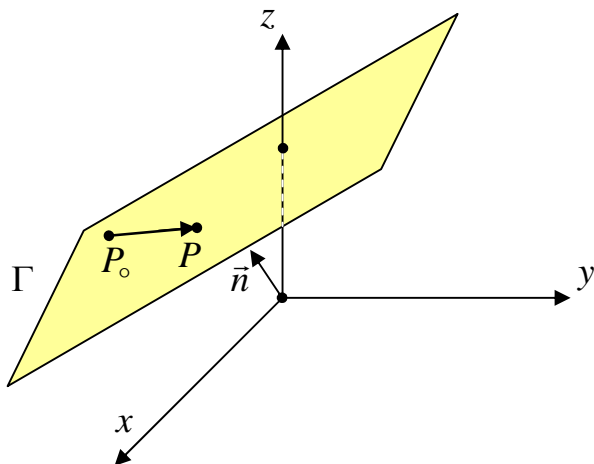
$$\vec{u} \times \vec{P_0P} = (-15, -12, -16)$$

$$\|\vec{u} \times \vec{P_0P}\| = \sqrt{(-15)^2 + (-12)^2 + (-16)^2} = \sqrt{625} = 25$$

$$\|\vec{u}\| = \sqrt{0^2 + 4^2 + (-3)^2} = \sqrt{25} = 5$$

$$\therefore D = \frac{\|\vec{u} \times \vec{P_0P}\|}{\|\vec{u}\|} = \frac{25}{5} = 5$$

ب) صفحه در فضا



هر صفحه در فضای R^3 با یک نقطه روی آن و یک بردار که بر آن صفحه عمود است مشخص می شود.

اگر $P(x_0, y_0, z_0)$ یک نقطه از صفحه و بردار غیر صفر $\vec{n} = (a, b, c)$ عمود بر آن صفحه باشد و $P(x, y, z)$ نقطه دلخواهی از آن فرض شود. آنگاه معادله صفحه به صورت زیر خواهد بود.

$$a(x - x_0) + b(y - y_0) + c(z - z_0) = 0$$

توجه: بردار n را بردار نرمال صفحه می نامند. بردار نرمال صفحه همواره بر آن صفحه عمود است.

تمرین ۴: معادله صفحه ای را بنویسید که از نقطه $A(2, 3, -1)$ گذشته و بر بردار

$$\vec{n} = 3\vec{i} - 2\vec{j} + 5\vec{k}$$
 عمود باشد.

حل:

$$\vec{n} = 3\vec{i} - 2\vec{j} + 5\vec{k} = (3, -2, 5)$$

$$a(x - x_0) + b(y - y_0) + c(z - z_0) = 0$$

$$\rightarrow 3(x - 2) - 2(y - 3) + 5(z + 1) = 0 \rightarrow 3x - 2y + 5z = -5$$

تمرین ۵: معادله صفحه ای را بنویسید که از نقطه $A(-3, 2, 1)$ گذشته و بر خط

$$\frac{x}{3} = \frac{y-1}{2} = \frac{z+3}{-1}$$
 عمود باشد.

حل: چون صفحه و خط بر هم عمودند، پس بردار نرمال صفحه می تواند بردار هادی خط باشد.

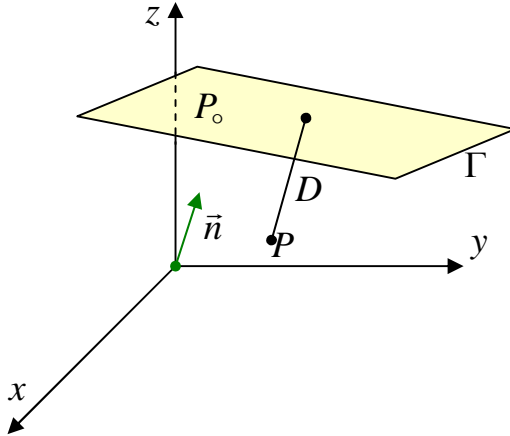
$$\vec{n} = \vec{u} = (3, 2, -1)$$

$$a(x - x_0) + b(y - y_0) + c(z - z_0) = 0$$

$$3(x + 3) + 2(y - 2) - (z - 1) = 0 \rightarrow 3x + 2y - z = -6$$

((صفحه ۴))

فاصله‌ی یک نقطه از یک صفحه



فرض کنیم Γ صفحه‌ای باشد که بر بردار غیر صفر \vec{n} عمود است و P را نقطه‌ای در نظر بگیریم که خارج (یا روی) Γ قرار دارد. در این صورت فاصله‌ی نقطه‌ی P از صفحه‌ی Γ یعنی D برابر است با:

$$D = \frac{|\vec{n} \cdot \vec{P_0P}|}{\|\vec{n}\|}$$

که در آن P_0 نقطه‌ی دلخواهی از صفحه است.

تمرین ۶: فاصله‌ی نقطه‌ی $P(0, 2, 1)$ را از صفحه‌ی Γ به معادله‌ی $x + y + \sqrt{2}z + 2 - \sqrt{2} = 0$

بدست آورید.

حل:

$$P_0 \in \Gamma \rightarrow P_0(\sqrt{2}, -2, 0)$$

$$\vec{n} = (1, 1, \sqrt{2})$$

$$\vec{P_0P} = (-\sqrt{2}, 4, 1)$$

$$\vec{n} \cdot \vec{P_0P} = 1(-\sqrt{2}) + 4(1) + 1(\sqrt{2}) = 4$$

$$\|\vec{n}\| = \sqrt{1+1+2} = 2$$

$$D = \frac{|\vec{n} \cdot \vec{P_0P}|}{\|\vec{n}\|} = \frac{4}{2} = 2$$

نتیجه: فاصله‌ی نقطه‌ی $P(x_1, y_1, z_1)$ از صفحه‌ی Γ به معادله‌ی $ax + by + cz + d = 0$ به صورت زیر

است.

$$D = \frac{|ax_1 + by_1 + cz_1 + d|}{\sqrt{a^2 + b^2 + c^2}}$$

((صفحه‌ی ۵))

تمرین ۷: فاصله‌ی نقطه‌ی $P(0, 2, 1)$ را از صفحه‌ی Γ به معادله‌ی $x + y + \sqrt{2}z + 2 - \sqrt{2} = 0$

بدست آورید.

حل:

$$D = \frac{|ax_1 + by_1 + cz_1 + d|}{\sqrt{a^2 + b^2 + c^2}}$$
$$= \frac{|(1)(0) + (1)(2) + (\sqrt{2})(1) + (2 - \sqrt{2})|}{\sqrt{1^2 + 1^2 + (\sqrt{2})^2}} = \frac{|2 + \sqrt{2} + 2 - \sqrt{2}|}{\sqrt{4}} = \frac{4}{2} = 2$$

پایان