

به نام خدا

کلیپ ۴ ریاضی عمومی ۲ مدرس : جابر عامری

آموزشکده های فنی خوزستان

موضوع : کاربرد هایی برای ضرب داخلی و ضرب خارجی

رابطه ی بین ضرب خارجی و ضرب داخلی دو بردار

برای هر دو بردار غیر صفر \vec{u} و \vec{v} . ثابت کنید که

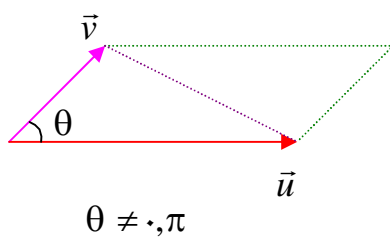
$$\|\vec{u} \times \vec{v}\|^2 = \|\vec{u}\|^2 \|\vec{v}\|^2 - (\vec{u} \cdot \vec{v})^2$$

تمرین ۱ : اگر $\|\vec{u}\| = 10$ و $\|\vec{v}\| = 2$ و $\vec{u} \cdot \vec{v} = 12$ اندازه ی بردار $\vec{u} \times \vec{v}$ را بیابید.

$$\|\vec{u} \times \vec{v}\|^2 = \|\vec{u}\|^2 \|\vec{v}\|^2 - (\vec{u} \cdot \vec{v})^2 = 10^2 \times 2^2 - (12)^2 = 400 - 144 = 256$$

$$\rightarrow \|\vec{u} \times \vec{v}\| = \sqrt{256} = 16$$

مساحت متوازی الاضلاع



برای هر دو بردار غیر صفر و غیر موازی \vec{u} و \vec{v} که زاویه ی بین آنها

θ (کوچکترین زاویه ی بین آنها) است. می توان یک متوازی الاضلاع

به شکل زیر ساخت. در این صورت مساحت متوازی الاضلاع از رابطه

های زیر بدست می آید.

$$S = \|\vec{u} \times \vec{v}\| \quad \text{مساحت متوازی الاضلاع}$$

((صفحه ی ۱))

نتیجه: مساحت مثلثی که با دو بردار غیر موازی و غیر صفر \vec{u} و \vec{v} تولید می شود، برابر است با:

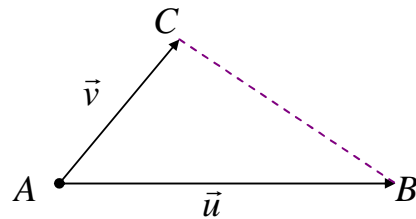
$$S = \frac{1}{2} \|\vec{u} \times \vec{v}\|$$

تمرین ۲: مساحت مثلثی را حساب کنید که $A(1, 2, 0)$ و $B(3, 0, -3)$ و $C(5, 2, 6)$ سه رأس آن باشند.

حل: تعریف می کنیم:

$$\vec{u} = \vec{AB} = (3 - 1, 0 - 2, -3 - 0) = (2, -2, -3)$$

$$\vec{v} = \vec{AC} = (5 - 1, 2 - 2, 6 - 0) = (4, 0, 6)$$



در این صورت:

$$\vec{u} \times \vec{v} = \begin{pmatrix} -2 & -3 & -3 & 2 \\ 2 & -2 & -3 & 0 \\ 4 & 0 & 6 & 0 \end{pmatrix} = (-12, -24, 8)$$

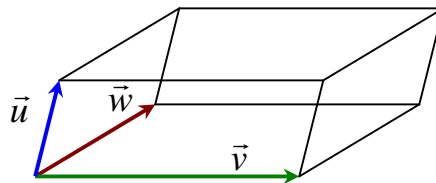
$$\|\vec{u} \times \vec{v}\| = \sqrt{(-12)^2 + (-24)^2 + (8)^2} = \sqrt{144 + 576 + 64} = \sqrt{784} = 28$$

$$S = \frac{1}{2} \|\vec{u} \times \vec{v}\| = \frac{1}{2} \times 28 = 14$$

حجم متوازی السطوح

اگر \vec{u} و \vec{v} و \vec{w} سه بردار غیر واقع بر یک صفحه باشند. در این صورت با این سه بردار یک متوازی السطوح

تشکیل می شود. حجم متوازی السطوح را می توان به شکل زیر محاسبه نمود.



$$V = |\vec{u} \cdot (\vec{v} \times \vec{w})|$$

((صفحه ۲))

تمرین ۳: اندازه‌ی ارتفاع و حجم متوازی السطوحی را حساب کنید که توسط بردار های $\vec{u} = (1, 1, 0)$

و $\vec{v} = (0, 1, 1)$ و $\vec{w} = (1, 0, 1)$ تولید می شود.

حل :

$$\vec{v} \times \vec{w} = \begin{vmatrix} \hat{i} & \hat{j} & \hat{k} \\ 0 & 1 & 1 \\ 1 & 0 & 1 \end{vmatrix} = (1, 1, -1)$$

$$\vec{u} \cdot (\vec{v} \times \vec{w}) = (1)(1) + (1)(1) + (0)(-1) = 2$$

$$\|\vec{v} \times \vec{w}\| = \sqrt{(1)^2 + (1)^2 + (-1)^2} = \sqrt{1+1+1} = \sqrt{3}$$

$$\text{ارتفاع متوازی السطوح } h = \vec{u}' = \frac{|\vec{u} \cdot (\vec{v} \times \vec{w})|}{\|\vec{v} \times \vec{w}\|} = \frac{2}{\sqrt{3}}$$

$$\text{حجم متوازی السطوح } V = |\vec{u} \cdot (\vec{v} \times \vec{w})| = 2$$

نتیجه : بردار های \vec{u} و \vec{v} و \vec{w} روی یک صفحه واقعدند اگر و فقط اگر حجم متوازی السطوحی که با این سه

بردار ساخته می شود برابر صفر باشد. یعنی $\vec{u} \cdot (\vec{v} \times \vec{w}) = 0$

تمرین ۴: نشان دهید که سه بردار $\vec{u} = (1, 1, 0)$ و $\vec{v} = (1, 1, 1)$ و $\vec{w} = (0, 0, 1)$ روی یک صفحه واقعدند.

حل: کافی است نشان دهیم که $\vec{u} \cdot (\vec{v} \times \vec{w}) = 0$

$$\vec{v} \times \vec{w} = \begin{vmatrix} \hat{i} & \hat{j} & \hat{k} \\ 1 & 1 & 1 \\ 0 & 0 & 1 \end{vmatrix} = (1, -1, 0)$$

$$\vec{u} \cdot (\vec{v} \times \vec{w}) = (1)(1) + (1)(-1) + (0)(0) = 0$$

پایان

((صفحه‌ی ۳))